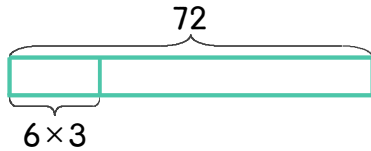


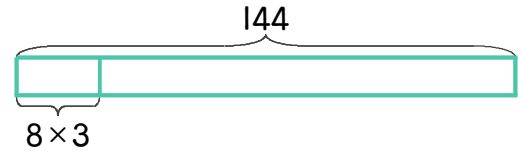
1 떡집에서 떡 72개를 만들었습니다. 떡을 한 줄에 6개씩 3줄을 만들어 상자에 담으려고 합니다. 몇 상자가 만들어지는지 하나의 식으로 나타내고 답을 구하세요



식  $72 \div (6 \times 3) = 4$

답 4상자

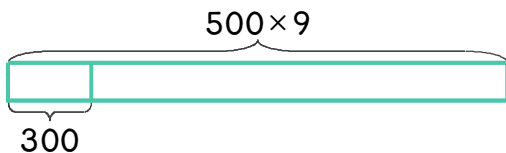
2 떡집에서 떡 144개를 만들었습니다. 떡을 한 줄에 8개씩 3줄을 만들어 상자에 담으려고 합니다. 몇 상자가 만들어지는지 하나의 식으로 나타내고 답을 구하세요.



식

답

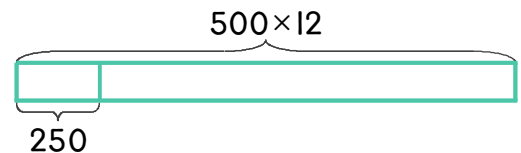
3 수연이는 500원짜리 동전 9개를 가지고 있습니다. 300원짜리 지우개를 몇 개까지 살 수 있는지 하나의 식으로 나타내고 답을 구하세요.



식

답

4 재호는 500원짜리 동전 12개를 가지고 있습니다. 250원짜리 사탕을 몇 개까지 살 수 있는지 하나의 식으로 나타내고 답을 구하세요.



식

답

