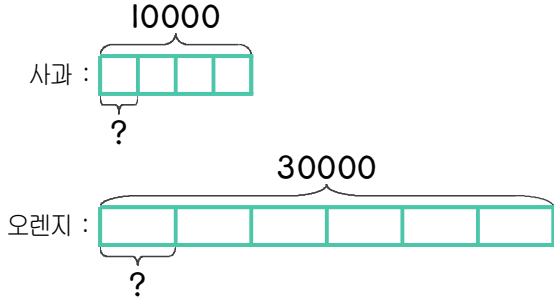


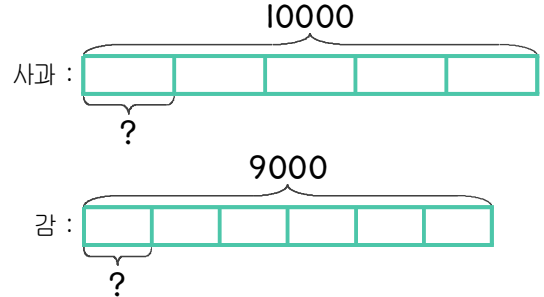
1 사과 4개에 만원, 오렌지 6개에 3만원입니다. 오렌지 1개는 사과 1개보다 얼마나 더 비싼지 하나의 식으로 나타내고 답을 구하세요.



식  $30000 \div 6 - 10000 \div 4 = 2500$

답 2500원

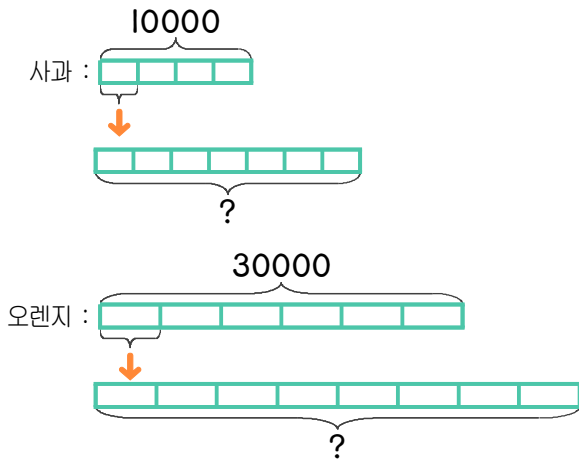
2 사과 5개에 만원, 감 6개에 9천원입니다. 사과 1개는 감 1개보다 얼마나 더 비싼지 하나의 식으로 나타내고 답을 구하세요.



식

답

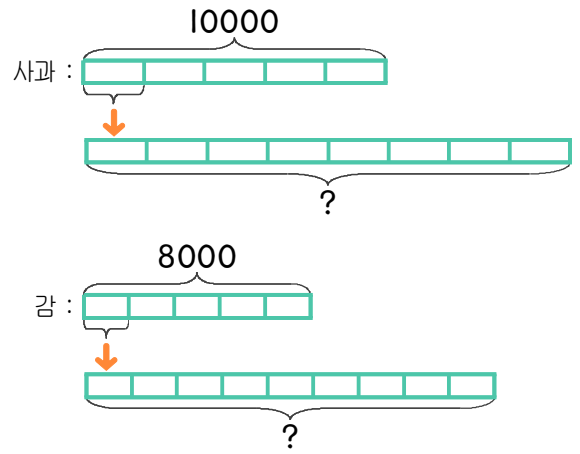
3 사과 4개에 만원, 오렌지 6개에 3만원입니다. 사과 7개와 오렌지 8개는 얼마인지 하나의 식으로 나타내고 답을 구하세요.



식

답

4 사과 5개에 만원, 감 5개에 8천원입니다. 사과 8개와 감 9개는 얼마인지 하나의 식으로 나타내고 답을 구하세요.



식

답

