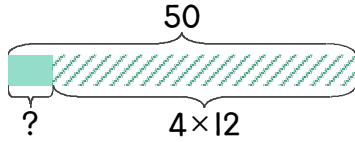


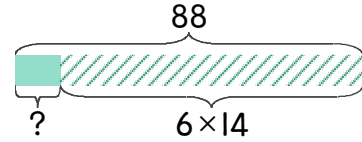
1 사과 50개가 있습니다. 한 상자에 4개씩 12상자에 담았습니다. 남은 사과는 몇 개인지 하나의 식으로 나타내고 답을 구하세요.



식 $50 - 4 \times 12 = 2$

답 2개

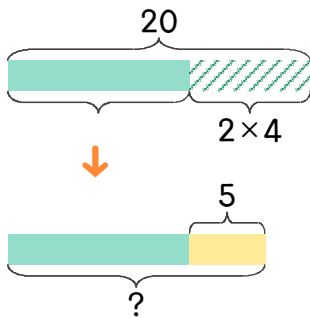
2 사과 88개가 있습니다. 한 상자에 6개씩 14상자에 담았습니다. 남은 사과는 몇 개인지 하나의 식으로 나타내고 답을 구하세요.



식

답

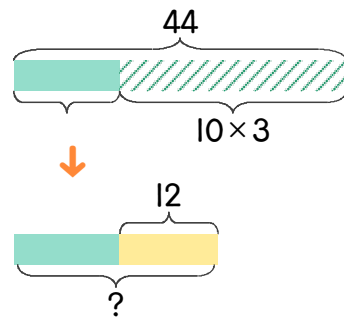
3 정현이는 사탕 20개를 가지고 있었는데 친구 2명에게 4개씩 나누어주고 5개를 더 샀습니다. 사탕은 몇 개가 되었는지 하나의 식으로 나타내고 답을 구하세요.



식

답

4 서영이는 사탕 44개를 가지고 있었는데 친구 10명에게 3개씩 나누어주고 12개를 더 샀습니다. 사탕은 몇 개가 되었는지 하나의 식으로 나타내고 답을 구하세요.



식

답

정답

