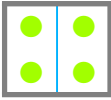

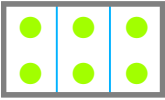





☺ 알맞은 개수만큼 ●를 그리고, 빈칸에 알맞은 수를 쓰세요.


 의 $\frac{1}{2}$ 은 

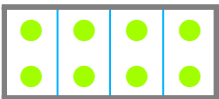

 전체 부분


 의 $\frac{1}{3}$ 은 



 전체 부분


 의 $\frac{2}{3}$ 은 



 전체 부분


 의 $\frac{1}{4}$ 은 

 전체 부분


 의 $\frac{2}{4}$ 은 

 전체 부분


 의 $\frac{3}{4}$ 은 

 전체 부분

4의 $\frac{1}{2}$ 은

6의 $\frac{1}{3}$ 은

6의 $\frac{2}{3}$ 은

8의 $\frac{1}{4}$ 은

8의 $\frac{2}{4}$ 은

8의 $\frac{3}{4}$ 은

