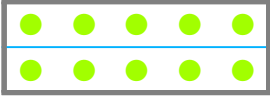





☺ 알맞은 개수만큼 ●를 그리고, 빈칸에 알맞은 수를 쓰세요.


 의  $\frac{1}{2}$  은 

전체  부분


 의  $\frac{1}{3}$  은 



전체  부분


 의  $\frac{2}{3}$  은 

전체  부분


 의  $\frac{1}{4}$  은 

전체  부분


 의  $\frac{2}{4}$  은 

전체  부분

10의  $\frac{1}{2}$  은

15의  $\frac{1}{3}$  은

15의  $\frac{2}{3}$  은

20의  $\frac{1}{4}$  은

20의  $\frac{2}{4}$  은

20의  $\frac{3}{4}$  은

