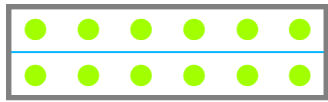







☺ 알맞은 개수만큼 ●를 그리고, 빈칸에 알맞은 수를 쓰세요.


 의  $\frac{1}{2}$  은 
  
 전체 부분


 의  $\frac{1}{3}$  은 
  
 전체 부분


 의  $\frac{2}{3}$  은 
  
 전체 부분


 의  $\frac{1}{4}$  은 
  
 전체 부분


 의  $\frac{3}{4}$  은 
  
 전체 부분

12의  $\frac{1}{2}$  은

18의  $\frac{1}{3}$  은

18의  $\frac{2}{3}$  은

24의  $\frac{1}{4}$  은

24의  $\frac{2}{4}$  은

24의  $\frac{3}{4}$  은

