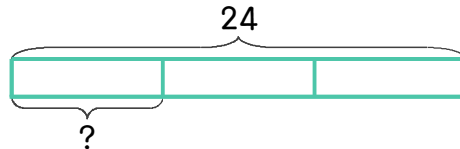


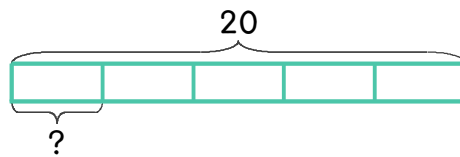
문제를 읽고 알맞은 식을 세워 답을 구하세요.

- 보기** 진아는 사탕 24개를 언니, 동생과 셋이서 똑같이 나누어 먹으려고 합니다. 한 사람이 몇 개씩 먹으면 될까요?



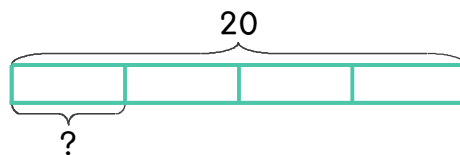
식 $24 \div 3 = 8$ 답 8개

- 3** 오렌지 20개를 5일 동안 똑같은 개수로 나누어 먹으려고 합니다. 하루에 몇 개씩 먹으면 될까요?



식 _____ 답 _____

- 4** 귤 20개를 4명이 똑같이 나누어 먹으려고 합니다. 한 사람이 몇 개씩 먹으면 될까요?



식 _____ 답 _____

