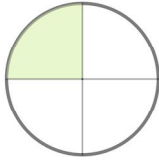
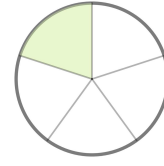



☺ 그림을 보고 빈칸에 알맞은 수나 분수를 쓰세요.



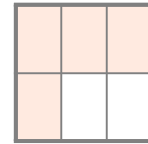
$\frac{1}{4}$ 과 $\frac{3}{4}$ 을/를 합하면 전체(1)가 됩니다.



$\frac{1}{5}$ 과 을/를 합하면 전체(1)가 됩니다.



$\frac{1}{3}$ 과 을/를 합하면 전체(1)가 됩니다.



$\frac{5}{6}$ 와 을/를 합하면 전체(1)가 됩니다.



$\frac{5}{8}$ 와 을/를 합하면 전체(1)가 됩니다.



$\frac{4}{10}$ 와 을/를 합하면 전체(1)가 됩니다.



$\frac{1}{13}$ 과 을/를 합하면 전체(1)가 됩니다.



$\frac{8}{9}$ 과 을/를 합하면 전체(1)가 됩니다.

