



☺ 빈칸에 알맞은 수를 쓰세요.




(1) 12cm의 $\frac{1}{4}$ 은? 12cm를 똑같이 4조각으로 나누면, 한 조각은 $12 \div 4 = 3$ (cm)

(2) 12cm의 $\frac{2}{4}$ 는? 2조각 : $3 \times 2 = 6$ (cm) (3) 12cm의 $\frac{3}{4}$ 은? 3조각 : $___ \times ___ = ___$ (cm)



(1) 18cm의 $\frac{1}{3}$ 은? 18cm를 똑같이 3조각으로 나누면, 한 조각은 $___ \div ___ = ___$ (cm)

(2) 18cm의 $\frac{2}{3}$ 는? 2조각 : $___ \times ___ = ___$ (cm)



(1) 24cm의 $\frac{1}{6}$ 은? 24cm를 똑같이 6조각으로 나누면, 한 조각은 $___ \div ___ = ___$ (cm)

(2) 24cm의 $\frac{2}{6}$ 는? 2조각 : $___ \times ___ = ___$ (cm) (3) 24cm의 $\frac{3}{6}$ 은? 3조각 : $___ \times ___ = ___$ (cm)

(2) 24cm의 $\frac{4}{6}$ 는? 2조각 : $___ \times ___ = ___$ (cm) (3) 24cm의 $\frac{5}{6}$ 는? 3조각 : $___ \times ___ = ___$ (cm)

