

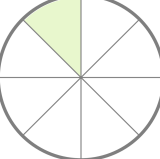
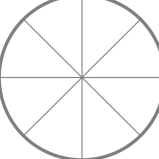
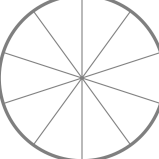


☺ 설명에 맞는 분수를 쓰고 색칠하세요.

$\frac{1}{4}$		이 2개이면	$\frac{2}{4}$	
$\frac{1}{3}$		이 2개이면	<input type="text"/>	
$\frac{1}{5}$		이 3개이면	<input type="text"/>	
$\frac{1}{6}$		이 5개이면	<input type="text"/>	
$\frac{1}{8}$		이 5개이면	<input type="text"/>	
$\frac{1}{10}$		이 3개이면	<input type="text"/>	
$\frac{1}{10}$		이 9개이면	<input type="text"/>	

