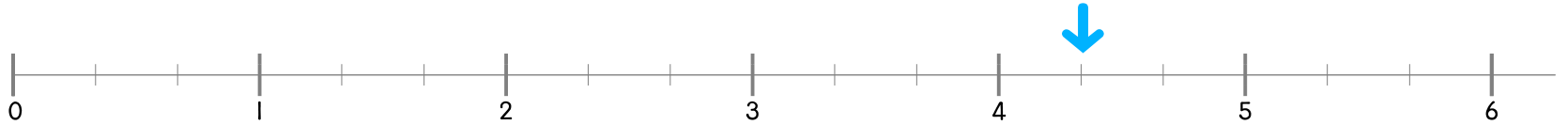


㉠ 분수의 위치를 화살표로 나타내고, 가분수로 나타내세요.

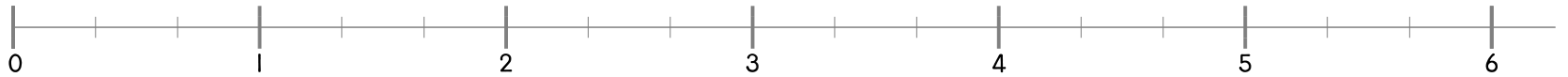
대분수 가분수

$$4\frac{1}{3} = \frac{13}{3}$$



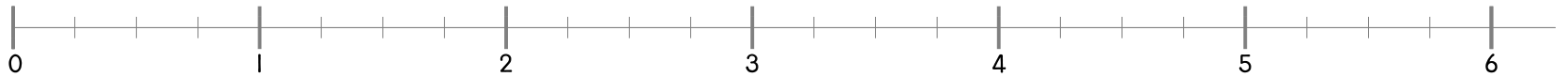
대분수 가분수

$$5\frac{2}{3} = \boxed{}$$



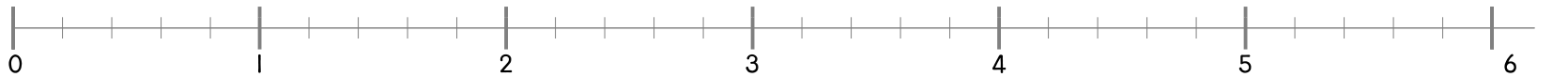
대분수 가분수

$$2\frac{3}{4} = \boxed{}$$



대분수 가분수

$$4\frac{4}{5} = \boxed{}$$



대분수 가분수

$$5\frac{5}{6} = \boxed{}$$

