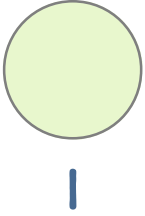
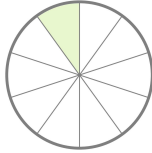


☺ 색칠한 부분을 소수로 나타내고, 읽어 보세요.

전체



부분



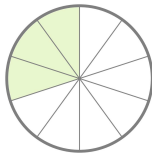
분수      소수  
 $\frac{1}{10} = 0.1$

부분



분수      소수  
 $\frac{2}{10} =$  \_\_\_\_\_

부분



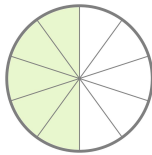
분수      소수  
 $\frac{3}{10} =$  \_\_\_\_\_

부분



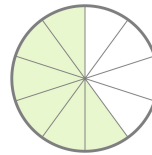
분수      소수  
 $\frac{4}{10} =$  \_\_\_\_\_

부분



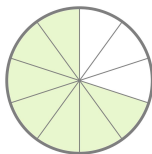
분수      소수  
 $\frac{5}{10} =$  \_\_\_\_\_

부분



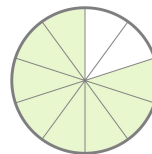
분수      소수  
 $\frac{6}{10} =$  \_\_\_\_\_

부분



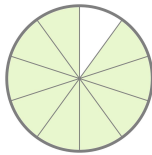
분수      소수  
 $\frac{7}{10} =$  \_\_\_\_\_

부분



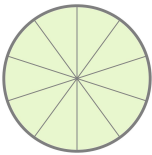
분수      소수  
 $\frac{8}{10} =$  \_\_\_\_\_

부분



분수      소수  
 $\frac{9}{10} =$  \_\_\_\_\_

부분



분수      소수  
 $\frac{10}{10} = 1.0 = 1$

