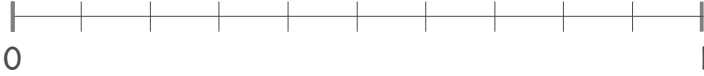


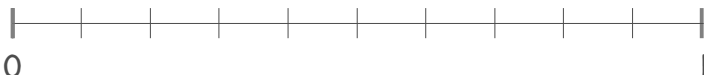
☺ 설명에 맞는 소수의 크기만큼 선으로 나타내고, 얼마인지 소수로 쓰세요.

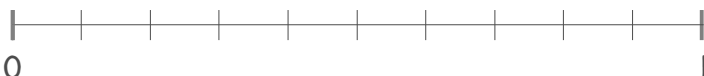
0.1이 2개인 수 

0.1이 3개인 수 

0.1이 5개인 수 

0.1이 6개인 수 

0.1이 8개인 수 

0.1이 9개인 수 

0.1이 10개인 수 

