



☺ 다음을 읽고 뺄셈식을 만들어 보세요.

연필 8자루 중에서 2자루를 동생에게, 3자루를 친구에게 주었습니다. 남은 연필은 몇 자루일까요?



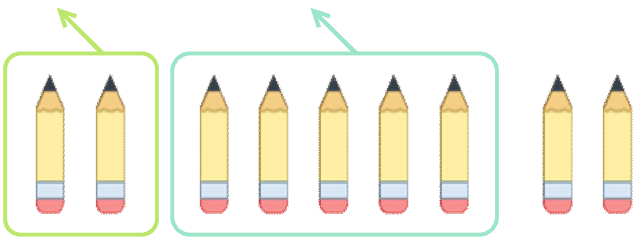
$8 - 2 - 3 = 3$

연필 8자루 중에서 3자루를 동생에게, 4자루를 친구에게 주었습니다. 남은 연필은 몇 자루일까요?




$\underline{\quad} - \underline{\quad} - \underline{\quad} = \underline{\quad}$

연필 9자루 중에서 2자루를 동생에게, 5자루를 친구에게 주었습니다. 남은 연필은 몇 자루일까요?



$\underline{\quad} - \underline{\quad} - \underline{\quad} = \underline{\quad}$

연필 9자루 중에서 3자루를 동생에게, 3자루를 친구에게 주었습니다. 남은 연필은 몇 자루일까요?



$\underline{\quad} - \underline{\quad} - \underline{\quad} = \underline{\quad}$

연필 7자루 중에서 1자루를 동생에게, 4자루를 친구에게 주었습니다. 남은 연필은 몇 자루일까요?

$\underline{\quad} - \underline{\quad} - \underline{\quad} = \underline{\quad}$

연필 7자루 중에서 3자루를 동생에게, 2자루를 친구에게 주었습니다. 남은 연필은 몇 자루일까요?

$\underline{\quad} - \underline{\quad} - \underline{\quad} = \underline{\quad}$

