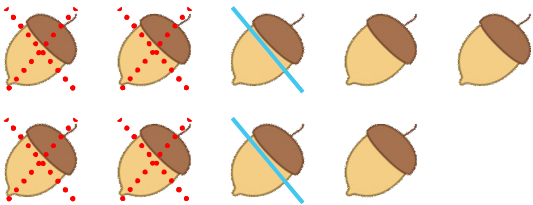


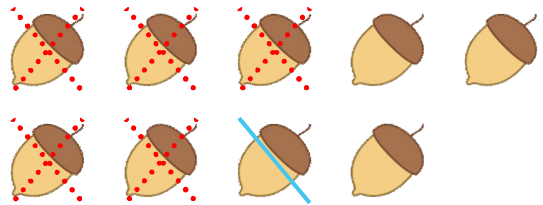
☺ 다음을 읽고 뺄셈식을 만들어 보세요.

도토리 9개 중에서 다람쥐에게 4개를 주고 또 2개를 주었습니다. 남은 도토리는 몇 개일까요?



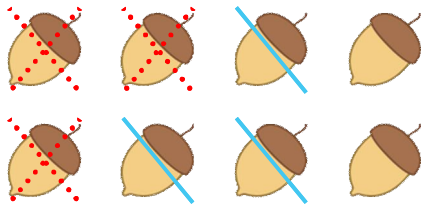
$$\underline{9} - \underline{4} - \underline{2} = \underline{3}$$

도토리 9개 중에서 다람쥐에게 5개를 주고 또 1개를 주었습니다. 남은 도토리는 몇 개일까요?



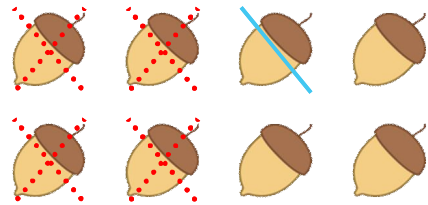
$$\underline{\quad} - \underline{\quad} - \underline{\quad} = \underline{\quad}$$

도토리 8개 중에서 다람쥐에게 3개를 주고 또 3개를 주었습니다. 남은 도토리는 몇 개일까요?



$$\underline{\quad} - \underline{\quad} - \underline{\quad} = \underline{\quad}$$

도토리 8개 중에서 다람쥐에게 4개를 주고 또 1개를 주었습니다. 남은 도토리는 몇 개일까요?



$$\underline{\quad} - \underline{\quad} - \underline{\quad} = \underline{\quad}$$

도토리 7개 중에서 다람쥐에게 2개를 주고 또 4개를 주었습니다. 남은 도토리는 몇 개일까요?

$$\underline{\quad} - \underline{\quad} - \underline{\quad} = \underline{\quad}$$

도토리 7개 중에서 다람쥐에게 3개를 주고 또 1개를 주었습니다. 남은 도토리는 몇 개일까요?

$$\underline{\quad} - \underline{\quad} - \underline{\quad} = \underline{\quad}$$

