



☺ 다음을 읽고 뺄셈식을 만들어 보세요.

딸기 7개 중에서 4개를 먹고 또 2개를 먹었습니다. 남은 딸기는 몇 개일까요?




$$\underline{7} - \underline{4} - \underline{2} = \underline{1}$$

딸기 8개 중에서 4개를 먹고 또 2개를 먹었습니다. 남은 딸기는 몇 개일까요?




$$\underline{\quad} - \underline{\quad} - \underline{\quad} = \underline{\quad}$$

딸기 9개 중에서 5개를 먹고 또 2개를 먹었습니다. 남은 딸기는 몇 개일까요?



$$\underline{\quad} - \underline{\quad} - \underline{\quad} = \underline{\quad}$$

딸기 7개 중에서 2개를 먹고 또 2개를 먹었습니다. 남은 딸기는 몇 개일까요?



$$\underline{\quad} - \underline{\quad} - \underline{\quad} = \underline{\quad}$$

딸기 8개 중에서 5개를 먹고 또 1개를 먹었습니다. 남은 딸기는 몇 개일까요?

$$\underline{\quad} - \underline{\quad} - \underline{\quad} = \underline{\quad}$$

딸기 9개 중에서 6개를 먹고 또 2개를 먹었습니다. 남은 딸기는 몇 개일까요?

$$\underline{\quad} - \underline{\quad} - \underline{\quad} = \underline{\quad}$$

