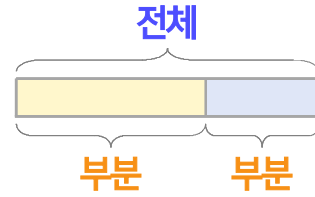
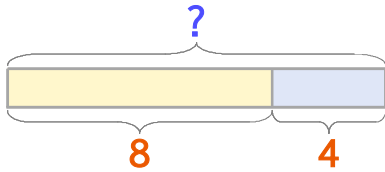


부분과 전체를 생각하며 문제를 해결해 보세요.

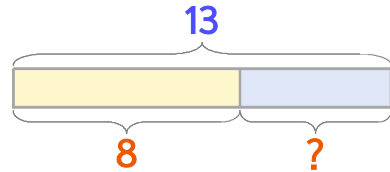


사탕을 언니가 8개 샀고 동생이 4개 샀습니다. 두 사람이 산 사탕을 합하면 몇 개일까요?



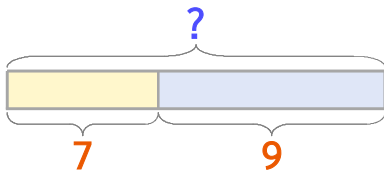
식 $8+4=12$ 답 12개

교실에 학생이 13명 있는데 그중에서 8명이 여학생입니다. 남학생은 몇 명일까요?



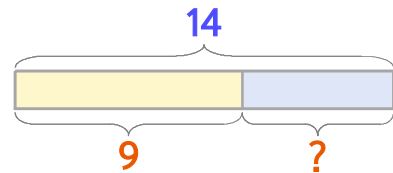
식 $13-8=5$ 답 5명

1 사탕을 언니가 7개 샀고 동생이 9개 샀습니다. 두 사람이 산 사탕을 합하면 몇 개일까요?



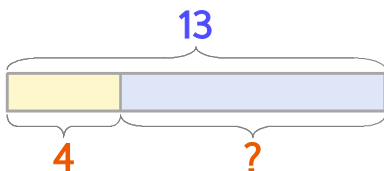
식 답

2 교실에 학생이 14명 있는데 그중에서 9명이 여학생입니다. 남학생은 몇 명일까요?



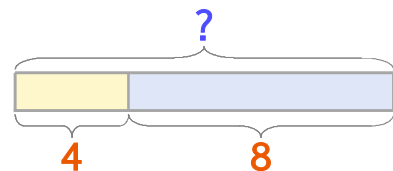
식 답

3 버스에 어른과 어린이가 합해서 13명 타고 있는데 그중에서 어린이가 4명입니다. 어른은 몇 명일까요?



식 답

4 교실에 남학생 4명과 여학생 8명이 있습니다. 교실에 있는 학생은 모두 몇 명일까요?



식 답

