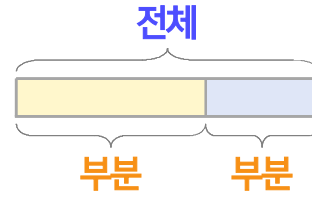
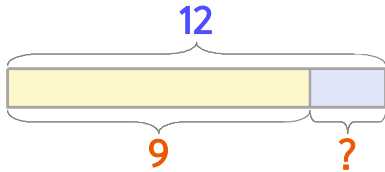


부분과 전체를 생각하며 문제를 해결해 보세요.

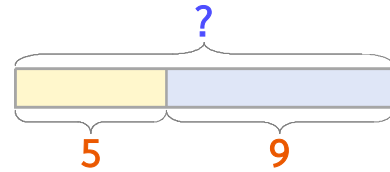


파란 공과 노란 공을 합해서 12개가 있습니다. 이 중에서 노란 공이 9개이면 파란 공이 몇 개일까요?



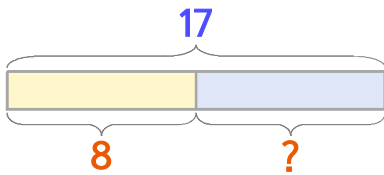
식 $12-9=3$ 답 3개

놀이터에 여학생이 5명, 남학생이 9명 있습니다. 놀이터에 있는 학생은 모두 몇 명일까요?



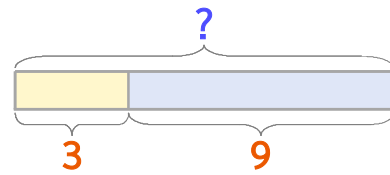
식 $5+9=14$ 답 14명

1 파란 공과 노란 공을 합해서 17개가 있습니다. 이 중에서 노란 공이 8개이면 파란 공은 몇 개일까요?



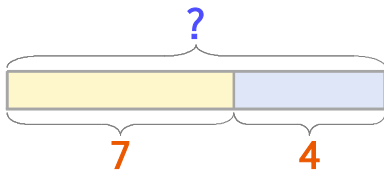
식 답

2 놀이터에 남학생이 3명, 여학생이 9명 있습니다. 놀이터에 있는 학생은 모두 몇 명일까요?



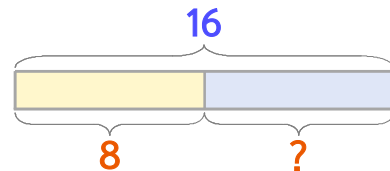
식 답

3 두발자전거가 7대, 세발자전거가 4대 있습니다. 두발자전거와 세발자전거를 합하면 모두 몇 대일까요?



식 답

4 빨간 색연필과 파란 색연필이 합해서 16자루 있습니다. 이 중에서 빨간 색연필이 8자루이면 파란 색연필은 몇 자루일까요?



식 답

