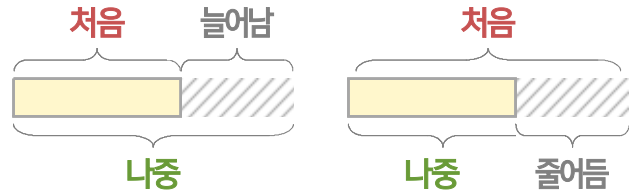
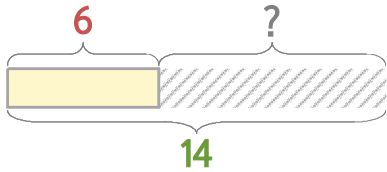


처음과 나중을 생각하며 문제를 해결해 보세요.

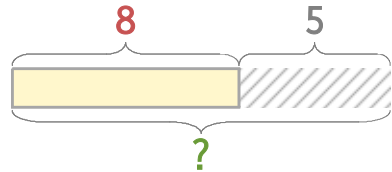


어항에 물고기 6마리가 있었는데 며칠 후에 보니 14마리가 되었습니다. 몇 마리가 늘어났나요?



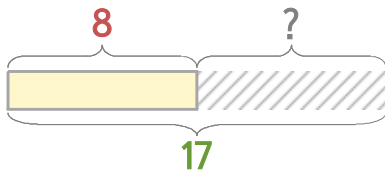
식  $14-6=8$       답 **8마리**

윤이는 8살입니다. 5년 후에는 몇 살이 될까요?



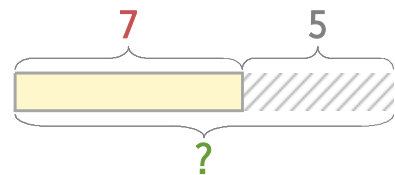
식  $8+5=13$       답 **13살**

1 어항에 물고기 8마리가 있었는데 며칠 후에 보니 17마리가 되었습니다. 몇 마리가 늘어났나요?



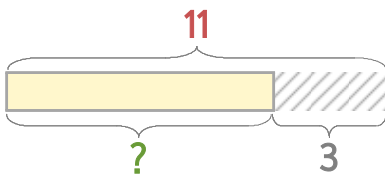
식                                  답

2 윤아의 동생은 7살입니다. 5년 후에는 몇 살이 될까요?



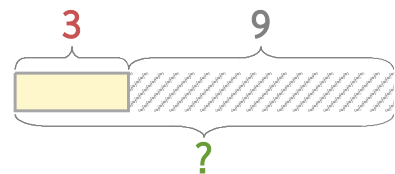
식                                  답

3 윤아의 언니는 11살입니다. 3년 전에는 몇 살이었을까요?



식                                  답

4 어항에 물고기 3마리가 있었는데 9마리를 더 넣었습니다. 물고기는 모두 몇 마리가 되었을까요?



식                                  답

