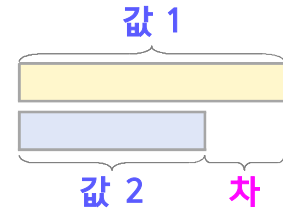
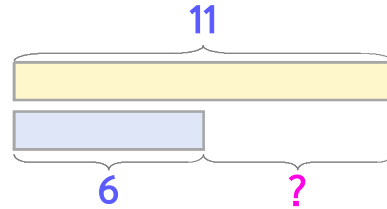


두 수의 크기를 비교하며 문제를 해결해 보세요



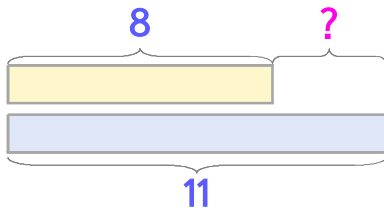
민서네 집에 친구들이 놀러 왔습니다. 토요일에 11명, 일요일에 6명이 왔습니다. 토요일에 온 친구들이 일요일에 온 친구보다 몇 명 더 많은가요?



식 $11-6=5$

답 5명

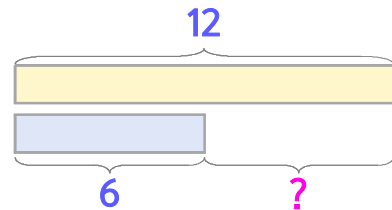
1 민서네 동네에는 개 8마리와 고양이 11마리가 있습니다. 고양이가 개보다 몇 마리 더 많은가요?



식

답

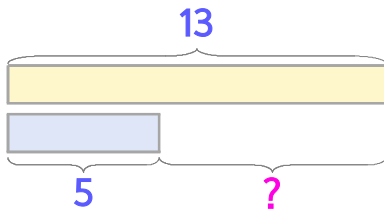
2 민서는 굴 12개를 먹고 언니는 굴 6개를 먹었습니다. 민서가 언니보다 몇 개 더 많이 먹었나요?



식

답

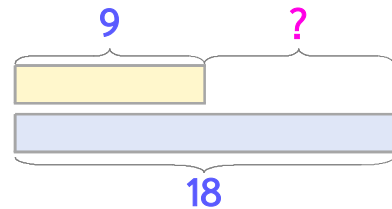
3 민서는 종이학을 어제 13개, 오늘 5개 접었습니다. 어제 접은 종이학이 오늘 접은 것보다 몇 개 더 많은가요?



식

답

4 민서는 동화책을 9권 읽었고 언니는 18권을 읽었습니다. 언니는 민서보다 몇 권 더 많이 읽었나요?



식

답

