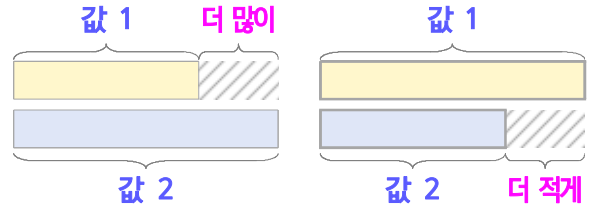
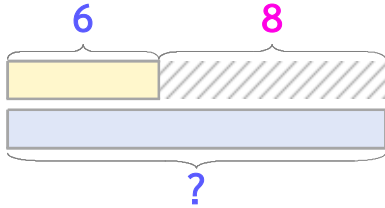


두 수의 크기를 비교하며 문제를 해결해 보세요

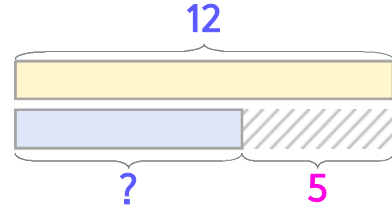


과자는 6개이고 초콜릿은 과자보다 8개 많습니다. 초콜릿은 몇 개일까요?



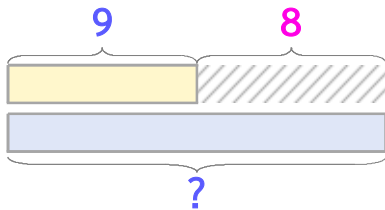
식 $6+8=14$ 답 14개

사과는 12개이고 배는 사과보다 5개 적습니다. 배는 몇 개일까요?



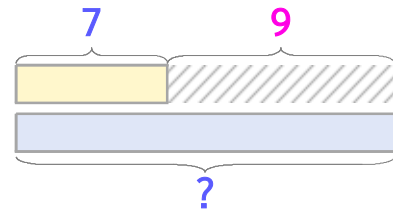
식 $12-5=7$ 답 7개

1 초콜릿은 9개이고 사탕은 초콜릿보다 8개 많습니다. 사탕은 몇 개일까요?



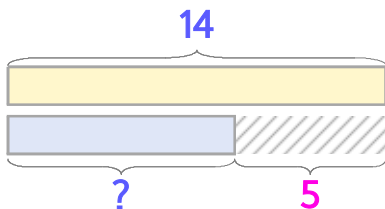
식 답

2 배는 7개이고 감은 배보다 9개 많습니다. 감은 몇 개일까요?



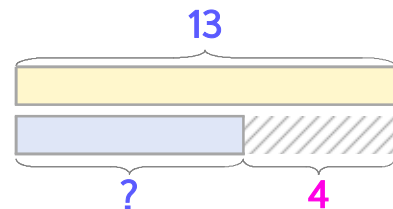
식 답

3 운동장에 남학생은 14명이고 여학생은 남학생보다 5명 적습니다. 여학생은 몇 명일까요?



식 답

4 수아네 반에 여학생은 13명이고 남학생은 여학생보다 4명 적습니다. 남학생은 몇 명일까요?



식 답

