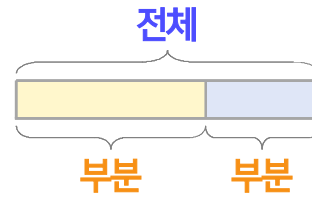
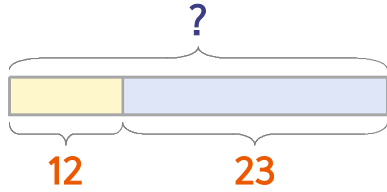


부분과 전체를 생각하며 문제를 해결해 보세요.

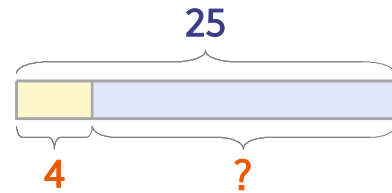


종이비행기를 어제 12개, 오늘 23개 접었습니다. 어제와 오늘 접은 종이비행기는 모두 몇 개일까요?



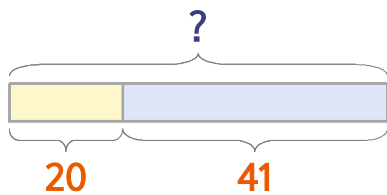
식  $12+23=35$       답 **35개**

달걀 25개를 샀는데 그중에서 4개가 깨어졌습니다. 깨지지 않은 달걀은 몇 개일까요?



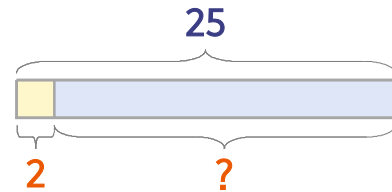
식  $25-4=21$       답 **21개**

1 종이비행기를 어제 20개, 오늘 41개 접었습니다. 어제와 오늘 접은 종이비행기는 모두 몇 개일까요?



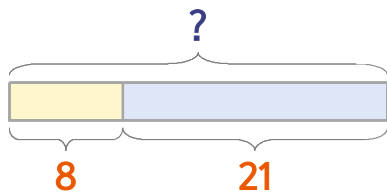
식 \_\_\_\_\_      답 \_\_\_\_\_

2 달걀 25개를 샀는데 그중에서 2개가 깨어졌습니다. 깨지지 않은 달걀은 몇 개일까요?



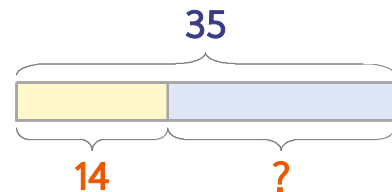
식 \_\_\_\_\_      답 \_\_\_\_\_

3 달걀을 샀는데 깨진 것이 8개, 깨지지 않은 것이 21개입니다. 달걀을 모두 몇 개 샀나요?



식 \_\_\_\_\_      답 \_\_\_\_\_

4 어제와 오늘 접은 종이배를 합하면 35개입니다. 어제 14개를 접었다면 오늘 몇 개를 접었나요?



식 \_\_\_\_\_      답 \_\_\_\_\_

