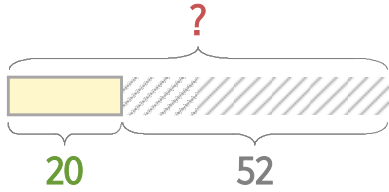


처음과 나중을 생각하며 문제를 해결해 보세요.

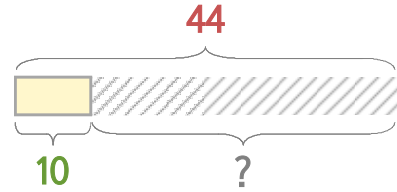


피자가게에서 피자 52판을 팔았더니 20판이 남았습니다. 원래 있던 피자는 몇 판일까요?



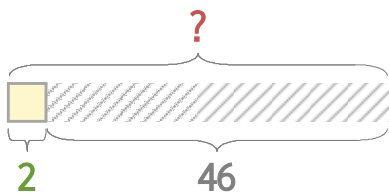
식 $20+52=72$ 답 **72판**

도넛가게에 도넛 44개가 있었는데 몇 개를 팔았더니 10개가 남았습니다. 몇 개를 팔았나요?



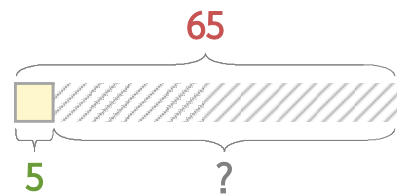
식 $44-10=34$ 답 **34개**

1 피자가게에서 피자 46판을 팔았더니 2판이 남았습니다. 원래 있던 피자는 몇 판일까요?



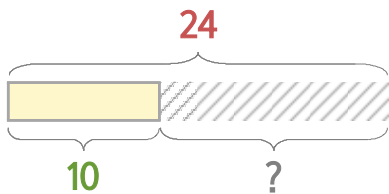
식 _____ 답 _____

2 도넛가게에 도넛 65개가 있었는데 몇 개를 팔았더니 5개가 남았습니다. 몇 개를 팔았나요?



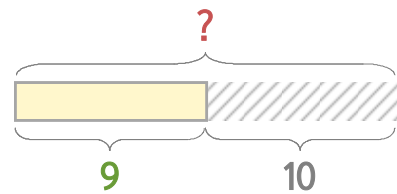
식 _____ 답 _____

3 과자가 한 상자에 24개 들어 있었는데 몇 개를 먹고나니 10개가 남았습니다. 몇 개를 먹었나요?



식 _____ 답 _____

4 감자 한 상자를 사서 10개를 먹었더니 9개가 남았습니다. 원래 있던 감자는 몇 개일까요?



식 _____ 답 _____



정답