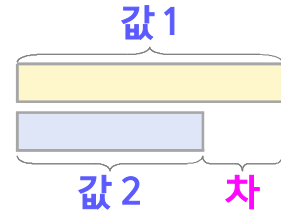
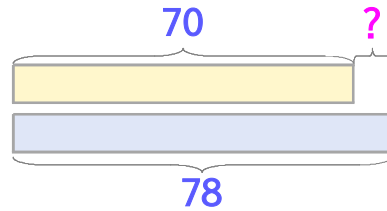


두 수의 크기를 비교하며 문제를 해결해 보세요

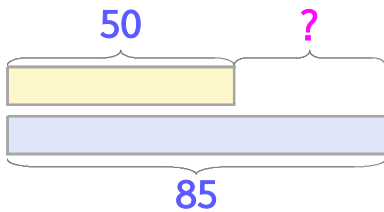


동물원에 입장한 사람 수는 월요일에 70명, 화요일에 78명입니다. 월요일에 몇 명 더 적게 입장했나요?



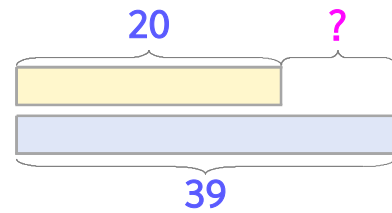
식 $78-70=8$ 답 **8명**

1 도서관을 이용한 사람 수는 토요일에 50명, 일요일에 85명입니다. 토요일에 몇 명 더 적게 이용했나요?



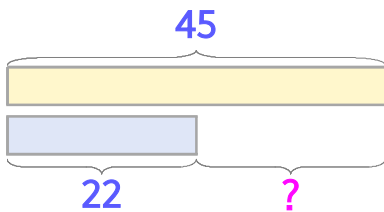
식 _____ 답 _____

2 학급문고에 만화책이 20권, 동화책이 39권입니다. 만화책이 몇 권 더 적은가요?



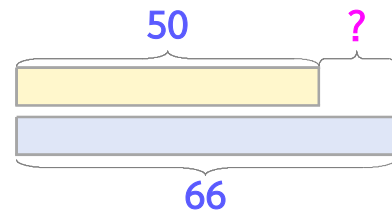
식 _____ 답 _____

3 민서는 종이비행기를 어제 45개, 오늘 22개 접었습니다. 오늘 몇 개 더 적게 접었나요?



식 _____ 답 _____

4 민서는 줄넘기를 50개, 언니는 66개 넘었습니다. 민서가 몇 개 더 적게 넘었나요?



식 _____ 답 _____

