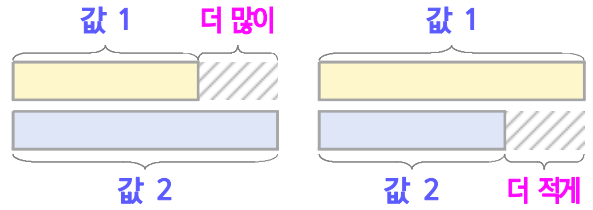
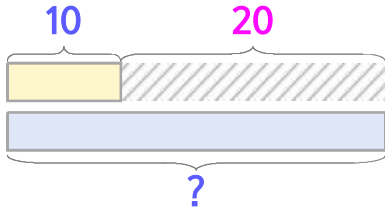


두 수의 크기를 비교하며 문제를 해결해 보세요

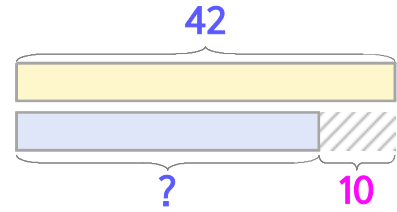


과자는 10개이고 초콜릿은 과자보다 20개 많습니다. 초콜릿은 몇 개일까요?



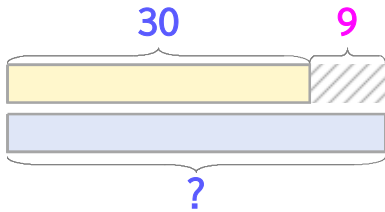
식 $10+20=30$ 답 **30개**

사과는 42개이고 배는 사과보다 10개 적습니다. 배는 몇 개일까요?



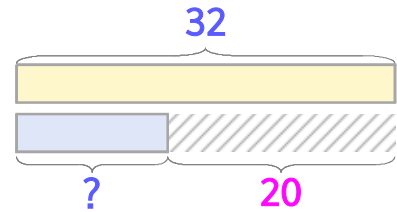
식 $42-10=32$ 답 **32개**

1 초콜릿은 30개이고 사탕은 초콜릿보다 9개 많습니다. 사탕은 몇 개일까요?



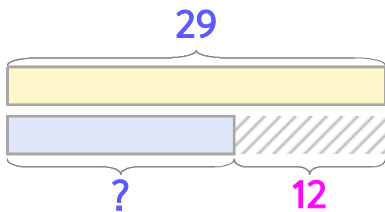
식 _____ 답 _____

2 배는 32개이고 감은 배보다 20개 적습니다. 감은 몇 개일까요?



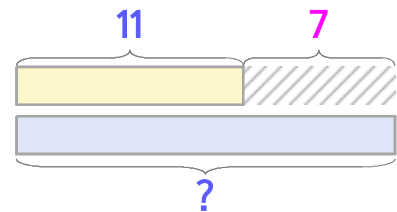
식 _____ 답 _____

3 운동장에 남학생은 29명이고 여학생은 남학생보다 12명 적습니다. 여학생은 몇 명일까요?



식 _____ 답 _____

4 수아네 반에 여학생은 11명이고 남학생은 여학생보다 7명 많습니다. 남학생은 몇 명일까요?



식 _____ 답 _____

