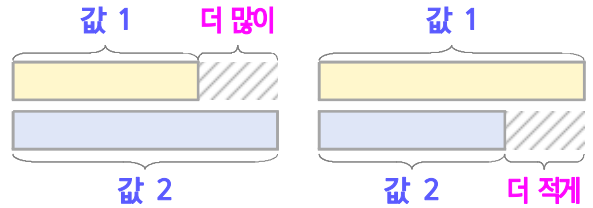
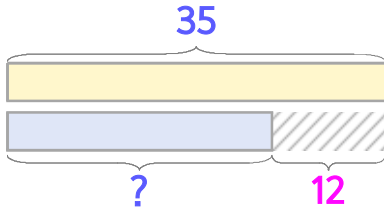


두 수의 크기를 비교하며 문제를 해결해 보세요

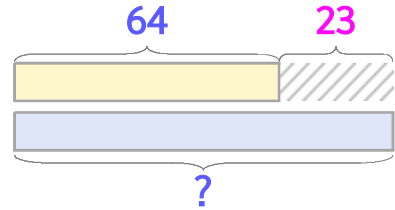


게임을 해서 은수는 35점을 얻었고 준호는 은수보다 12점 적습니다. 준호는 몇 점일까요?



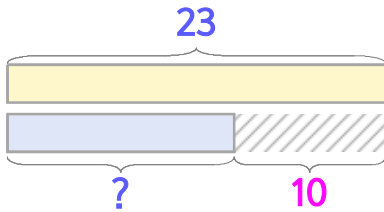
식 $35 - 12 = 23$ 답 **23점**

게임을 해서 윤아는 64점을 얻었고 민지는 윤아보다 23점 많습니다. 민지는 몇 점일까요?



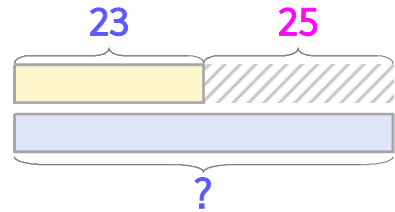
식 $64 + 23 = 87$ 답 **87점**

1 동물원에 사슴은 23마리 있고 얼룩말은 사슴보다 10마리 적습니다. 얼룩말은 몇 마리일까요?



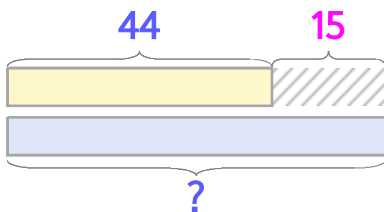
식 _____ 답 _____

2 동물원에 사슴은 23마리 있고 토끼는 사슴보다 25마리 많습니다. 토끼는 몇 마리일까요?



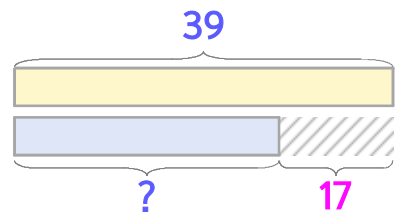
식 _____ 답 _____

3 방학 동안 은수는 책을 44권 읽었고 윤아는 은수보다 15권 많이 읽었습니다. 윤아는 책을 몇 권 읽었을까요?



식 _____ 답 _____

4 방학 동안 은수는 심부름을 39번 했고, 준호는 은수보다 17번 적게 했습니다. 준호는 심부름을 몇 번 했을까요?



식 _____ 답 _____

