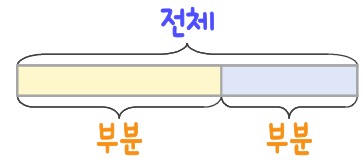
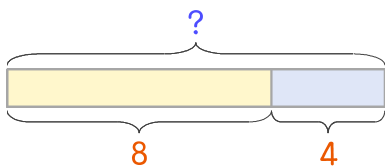


문제를 읽고 알맞은 덧셈식이나 뺄셈식을 세워 답을 구하세요.

부분과 전체를 생각하며 해결해 보세요.

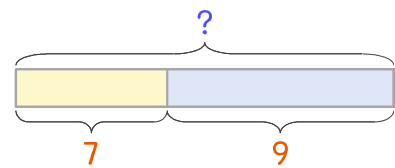


**보기** 사탕을 언니가 8개 샀고 동생이 4개 샀습니다. 두 사람이 산 사탕을 합하면 몇 개인가요?



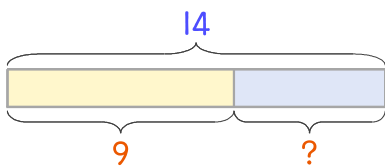
식  $8+4=12$       답 12개

**1** 사탕을 언니가 7개 샀고 동생이 9개 샀습니다. 두 사람이 산 사탕을 합하면 몇 개인가요?



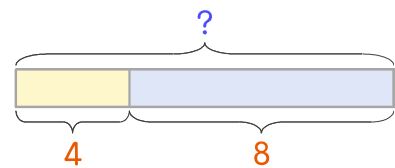
식 \_\_\_\_\_      답 \_\_\_\_\_

**2** 교실에 학생이 14명 있는데 그중에서 9명이 여학생입니다. 남학생은 몇 명 인가요?



식 \_\_\_\_\_      답 \_\_\_\_\_

**3** 교실에 남학생 4명과 여학생 8명이 있습니다. 교실에 있는 학생은 모두 몇 명인가요?



식 \_\_\_\_\_      답 \_\_\_\_\_

