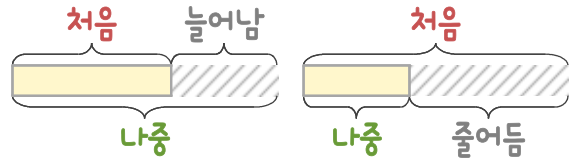
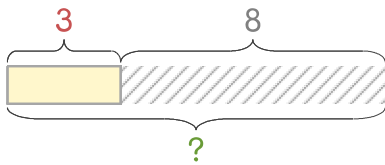


문제를 읽고 알맞은 덧셈식이나 뺄셈식을 세워 답을 구하세요.

처음과 나중을 생각하며 해결해 보세요.

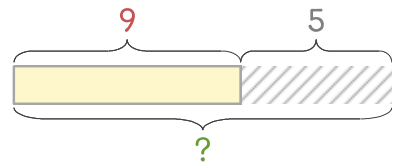


보기 빵집에 생크림케이크 3개가 있는데 8개를 더 만들었습니다. 생크림케이크는 모두 몇 개가 되었나요?



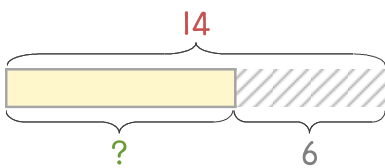
식 $3+8=11$ 답 **11개**

1 빵집에 호두파이 9개가 있는데 5개를 더 만들었습니다. 호두파이는 모두 몇 개가 되었나요?



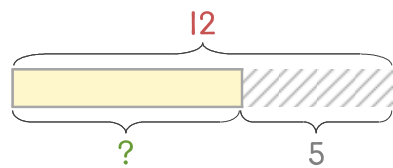
식 _____ 답 _____

2 빵집에 초코케이크 14개가 있는데 그중에서 6개를 팔았습니다. 남은 초코케이크는 몇 개인가요?



식 _____ 답 _____

3 빵집에 샌드위치 12개가 있는데 그중에서 5개를 팔았습니다. 남은 샌드위치는 몇 개인가요?



식 _____ 답 _____

