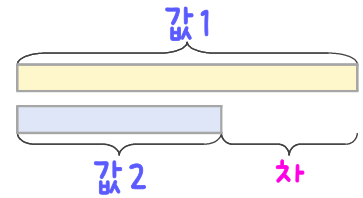
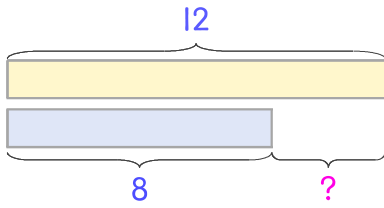


문제를 읽고 알맞은 덧셈식이나 뺄셈식을 세워 답을 구하세요.

두 수의 크기를 비교하여 해결해 보세요.

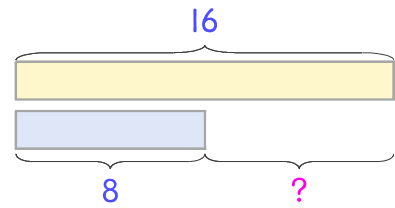


보기 사과는 12개, 배는 8개입니다. 사과가 몇 개 더 많은가요?



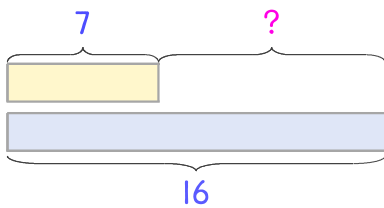
식 $12 - 8 = 4$ 답 **4개**

1 꿀은 16개, 감은 8개입니다. 꿀이 몇 개 더 많은가요?



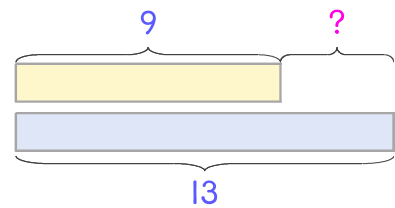
식 _____ 답 _____

2 감자는 7개, 고구마는 16개입니다. 고구마가 몇 개 더 많은가요?



식 _____ 답 _____

3 교실에 남학생은 9명, 여학생은 13명입니다. 여학생이 몇 명 더 많은가요?



식 _____ 답 _____

