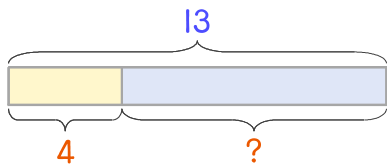


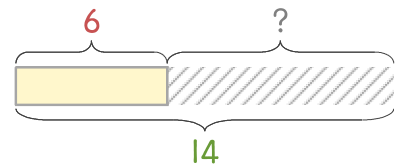
문제를 읽고 알맞은 식을 세워 답을 구하세요.

- 1 버스에 어른과 어린이가 합해서 13명 타고 있는데 그중에서 어린이가 4명입니다. 어른은 몇 명인가요?



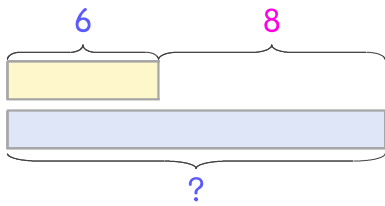
식 _____ 답 _____

- 2 어항에 물고기 6마리가 있었는데 며칠 후에 보니 14마리가 되었습니다. 몇 마리가 늘어났나요?



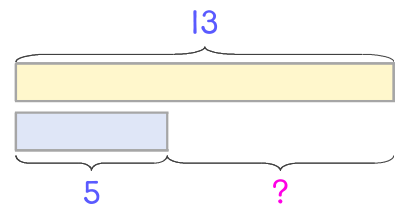
식 _____ 답 _____

- 3 과자는 6개이고 초콜릿은 과자보다 8개 더 많습니다. 초콜릿은 몇 개인가요?



식 _____ 답 _____

- 4 민서는 종이학을 어제 13개, 오늘 5개 접었습니다. 어제 접은 종이학이 오늘 접은 것보다 몇 개 더 많은가요?



식 _____ 답 _____

