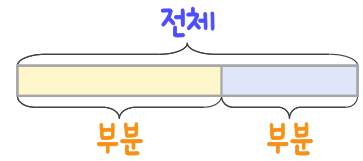
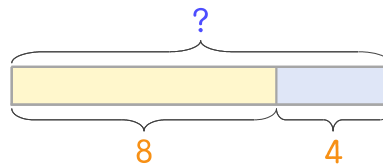


문제를 읽고 알맞은 덧셈식이나 뺄셈식을 세워 답을 구하세요.

부분과 전체를 생각하며 해결해 보세요.



- 1 꿀을 언니가 8개 먹었고 동생이 4개 먹었습니다. 두 사람이 먹은 꿀을 합하면 몇 개인가요?



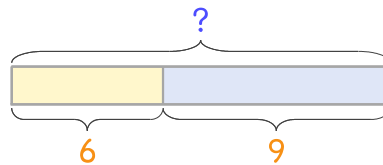
식

$$8 + 4 = 12$$

답

12개

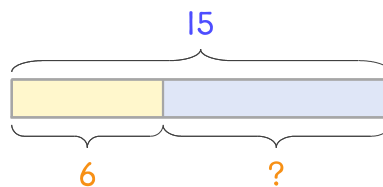
- 2 만두를 동생이 6개 먹었고 언니가 9개 먹었습니다. 두 사람이 먹은 만두를 합하면 몇 개인가요?



식

답

- 3 토마토 15개를 지아와 동생이 먹었습니다. 지아가 6개를 먹었다면 동생이 몇 개를 먹었나요?



식

답

