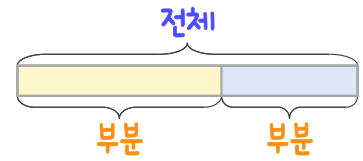
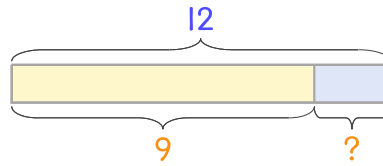


문제를 읽고 알맞은 덧셈식이나 뺄셈식을 세워 답을 구하세요.

부분과 전체를 생각하며 해결해 보세요.



- 4 분홍색 풍선과 하늘색 풍선을 합해서 12개가 있습니다. 그중에서 분홍색 풍선이 9개이면 하늘색 풍선이 몇 개인가요?



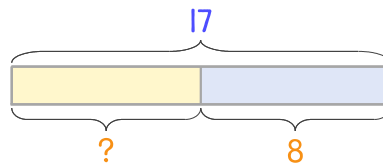
식

$$12 - 9 = 3$$

답

3개

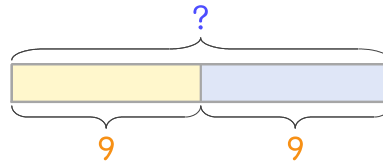
- 5 초록색 풍선과 노란색 풍선을 합해서 17개가 있습니다. 그중에서 노란색 풍선이 8개이면 초록색 풍선은 몇 개인가요?



식

답

- 6 흰색 풍선과 검은색 풍선이 9개씩 있습니다. 풍선은 모두 몇 개인가요?



식

답

