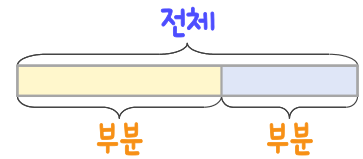
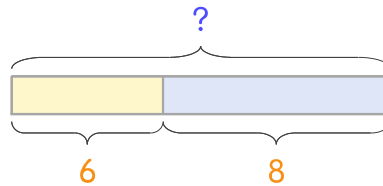


문제를 읽고 알맞은 덧셈식이나 뺄셈식을 세워 답을 구하세요.

부분과 전체를 생각하며 해결해 보세요.



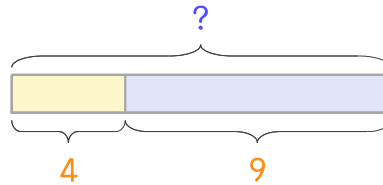
- 7 공원에 비둘기가 6마리, 까치가 8마리 있습니다. 공원에 있는 비둘기와 까치를 합하면 몇 마리인가요?



식

답

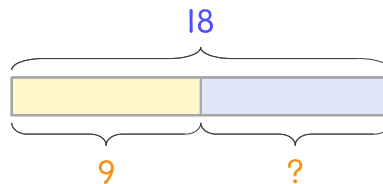
- 8 놀이터에 어른이 4명, 어린이가 9명 있습니다. 놀이터에 있는 사람은 모두 몇 명인가요?



식

답

- 9 도서관에 학생이 18명 있는데 남학생이 9명입니다. 여학생은 몇 명인가요?



식

답

