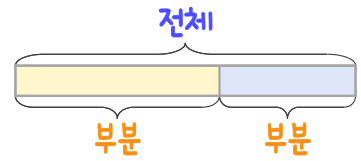
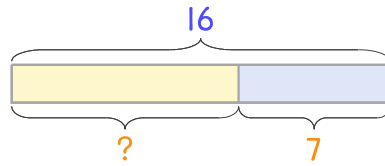


문제를 읽고 알맞은 덧셈식이나 뺄셈식을 세워 답을 구하세요.

부분과 전체를 생각하며 해결해 보세요.



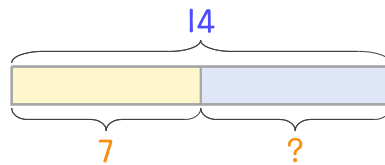
13 새롭이네 집에 만화책과 동화책이 합해서 16권 있습니다. 그중에서 동화책이 7권이면 만화책은 몇 권인가요?



식 _____

답 _____

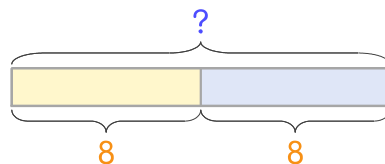
14 아람이는 동화책 14권을 가지고 있습니다. 그중에서 7권을 읽었다면 읽지 않은 동화책은 몇 권인가요?



식 _____

답 _____

15 바나나우유가 8개, 딸기우유가 8개 있습니다. 두 종류 우유를 합하면 몇 개 인가요?



식 _____

답 _____

