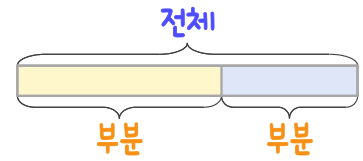
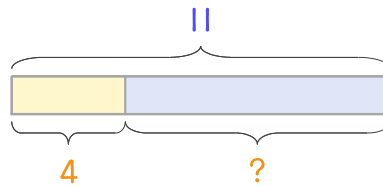


문제를 읽고 알맞은 덧셈식이나 뺄셈식을 세워 답을 구하세요.

부분과 전체를 생각하며 해결해 보세요.



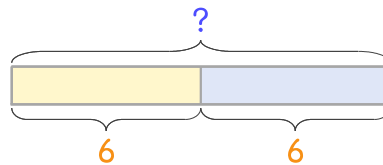
- 16 아이스크림 11개가 있는데 그중에서 4개는 초코맛이고 나머지는 딸기맛입니다. 딸기맛 아이스크림은 몇 개인가요?



식 _____

답 _____

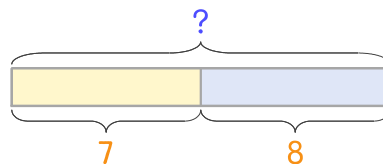
- 17 지호는 연필을 한 상자 사서 6자루는 깎고 나머지 6자루는 깎지 않았습니다. 한 상자에 들어 있는 연필은 몇 자루인가요?



식 _____

답 _____

- 18 자전거 보관소에 두발자전거가 7대, 세발자전거가 8대 있습니다. 두발자전거와 세발자전거를 합하면 몇 대인가요?



식 _____

답 _____

