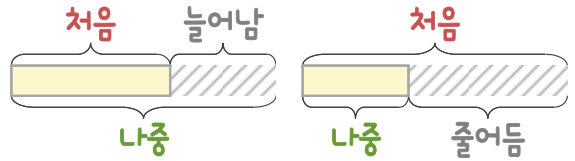
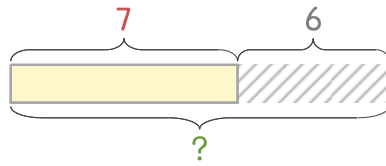


문제를 읽고 알맞은 덧셈식이나 뺄셈식을 세워 답을 구하세요.

처음과 나중을 생각하며 해결해 보세요.



- 1 빵집에 우유식빵 7개가 있는데 6개를 더 만들었습니다. 우유식빵은 모두 몇 개가 되었나요?



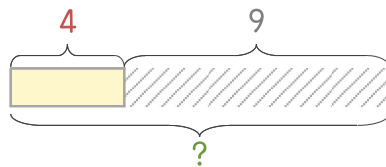
식

$$7+6=13$$

답

13개

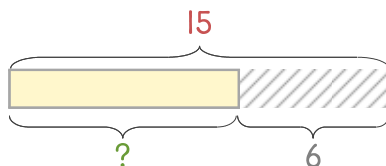
- 2 빵집에 초코식빵 4개가 있는데 9개를 더 만들었습니다. 초코식빵은 모두 몇 개가 되었나요?



식

답

- 3 빵집에 당근케이크 15개가 있는데 그중에서 6개를 팔았습니다. 남은 당근케이크는 몇 개인가요?



식

답

