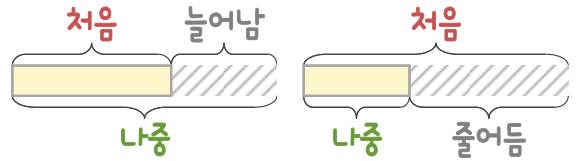
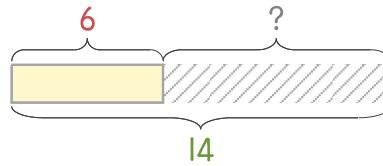


문제를 읽고 알맞은 덧셈식이나 뺄셈식을 세워 답을 구하세요.

처음과 나중을 생각하며 해결해 보세요.

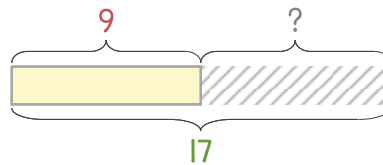


- 4 어항에 금붕어 6마리가 있었는데 며칠 후에 보니 14마리가 되었습니다. 몇 마리가 늘어났나요?



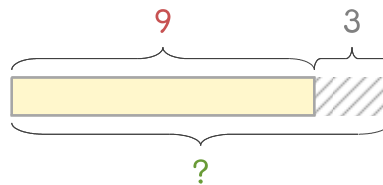
식 14-6=8 답 8마리

- 5 어항에 열대어 9마리가 있었는데 며칠 후에 보니 17마리가 되었습니다. 몇 마리가 늘어났나요?



식 _____ 답 _____

- 6 어항에 거북이 9마리가 있었는데 3마리를 더 넣었습니다. 거북이는 모두 몇 마리가 되었나요?



식 _____ 답 _____

