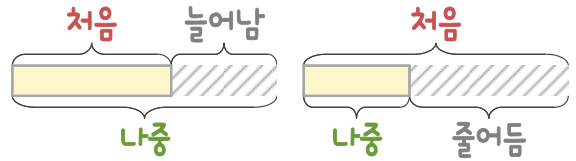
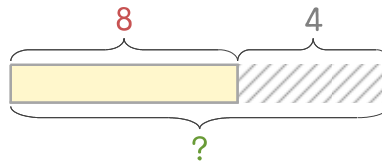


문제를 읽고 알맞은 덧셈식이나 뺄셈식을 세워 답을 구하세요.

처음과 나중을 생각하며 해결해 보세요.



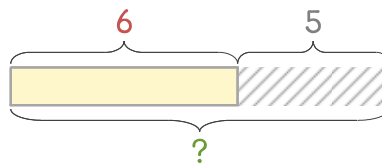
7 다솔이는 8살입니다. 4년 후에는 몇 살이 되나요?



식 \_\_\_\_\_

답 \_\_\_\_\_

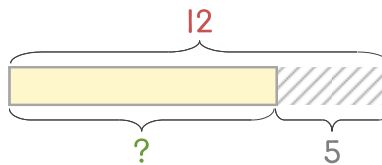
8 다솔이의 동생은 6살입니다. 동생은 5년 후에 몇 살이 되나요?



식 \_\_\_\_\_

답 \_\_\_\_\_

9 다솔이의 언니는 12살입니다. 언니는 5년 전에 몇 살이었나요?



식 \_\_\_\_\_

답 \_\_\_\_\_

