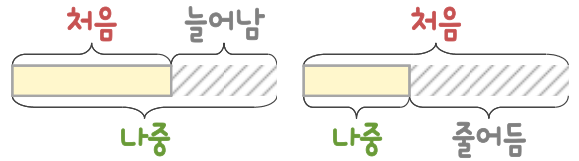
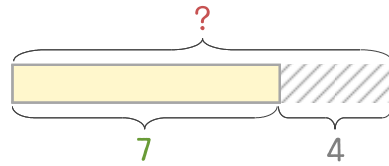


문제를 읽고 알맞은 덧셈식이나 뺄셈식을 세워 답을 구하세요.

처음과 나중을 생각하며 해결해 보세요.



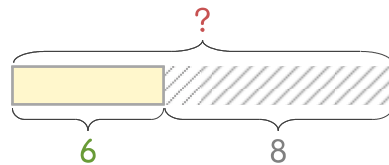
- 10 복숭아 한 상자 중에서 4개를 먹었더니 7개가 남았습니다. 한 상자에 들어 있던 복숭아는 몇 개인가요?



식 \_\_\_\_\_

답 \_\_\_\_\_

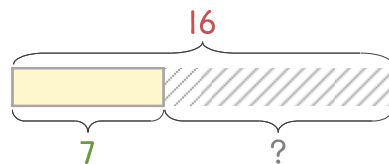
- 11 토마토 한 상자 중에서 8개를 먹었더니 6개가 남았습니다. 한 상자에 들어 있던 토마토는 몇 개인가요?



식 \_\_\_\_\_

답 \_\_\_\_\_

- 12 포도 16송이 중에서 몇 송이를 먹었더니 7송이가 남았습니다. 먹은 포도는 몇 송이인가요?



식 \_\_\_\_\_

답 \_\_\_\_\_

