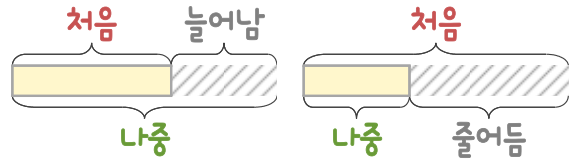
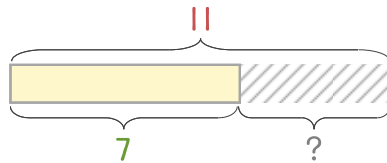


문제를 읽고 알맞은 덧셈식이나 뺄셈식을 세워 답을 구하세요.

처음과 나중을 생각하며 해결해 보세요.



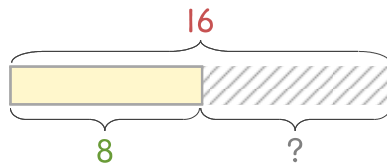
- 13 성아가 가지고 온 장난감 11개 중에서 몇 개를 정리했더니 7개가 남았습니다. 정리한 장난감은 몇 개인가요?



식

답

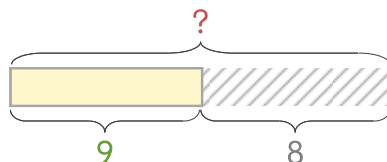
- 14 책꽂이에서 꺼내 읽은 책 16권 중에서 몇 권을 책꽂이에 꽂았더니 8권이 남았습니다. 꽂은 책은 몇 권인가요?



식

답

- 15 블록 한 상자를 열어서 8개를 쌓았더니 9개가 남았습니다. 한 상자에 있던 블록은 몇 개인가요?



식

답

