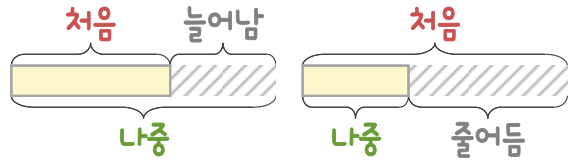
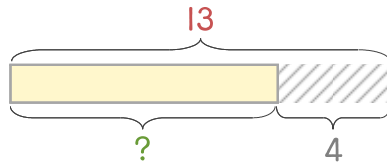


문제를 읽고 알맞은 덧셈식이나 뺄셈식을 세워 답을 구하세요.

처음과 나중을 생각하며 해결해 보세요.



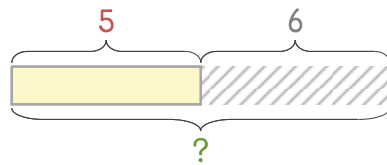
16 놀이터에 있는 아이들 13명 중에서 4명이 솜사탕을 사러 갔습니다. 놀이터에 남은 아이들은 몇 명인가요?



식

답

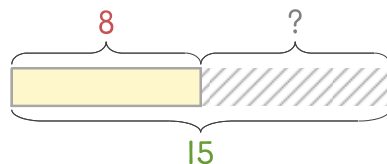
17 버스정류장에 5명이 있었는데 6명이 더 왔습니다. 버스 정류장에 있는 사람은 몇 명이 되었나요?



식

답

18 인형극이 시작할 때 관객이 8명이 있었는데 중간에 몇 명이 더 와서 15명이 되었습니다. 중간에 들어온 사람은 몇 명인가요?



식

답

