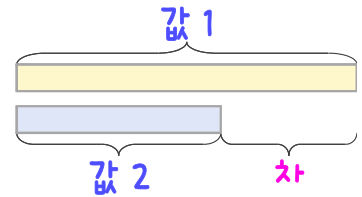
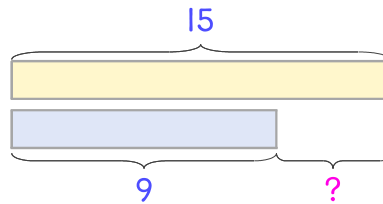


문제를 읽고 알맞은 덧셈식이나 뺄셈식을 세워 답을 구하세요.

두 수의 크기를 비교하여 해결해 보세요.



1 감자 15개와 고구마 9개가 있습니다. 감자가 몇 개 더 많은가요?



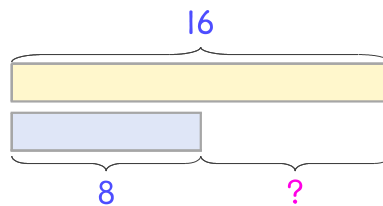
식

$$15 - 9 = 6$$

답

6개

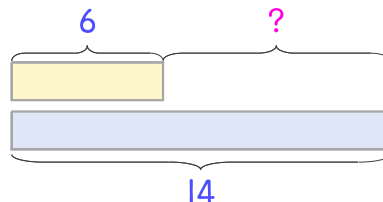
2 밤은 16개 있고 호두는 8개 있습니다. 밤이 몇 개 더 많은가요?



식

답

3 당근 6개와 호박 14개가 있습니다. 당근이 몇 개 더 적은가요?



식

답

