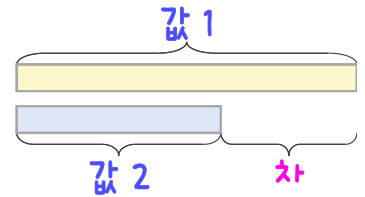
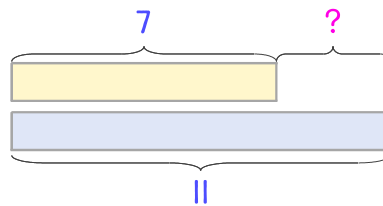


문제를 읽고 알맞은 덧셈식이나 뺄셈식을 세워 답을 구하세요.

두 수의 크기를 비교하여 해결해 보세요.



- 4 서하의 생일파티에 남학생은 7명, 여학생은 11명이 왔습니다. 여학생이 몇 명 더 많이 왔나요?



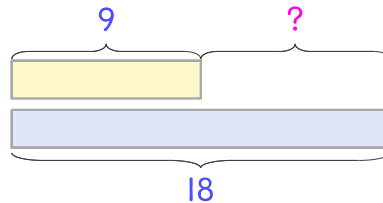
식

$$11 - 7 = 4$$

답

4명

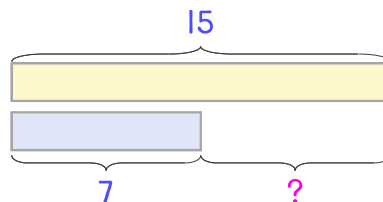
- 5 운동장에 남학생 9명과 여학생 18명이 있습니다. 여학생이 몇 명 더 많은가요?



식

답

- 6 서점에 있는 손님 중 어른이 15명이고 어린이가 7명입니다. 어린이가 어른보다 몇 명 더 적은가요?



식

답

