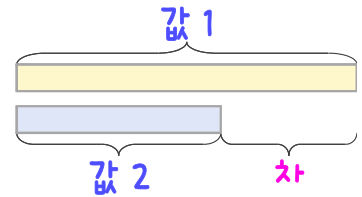
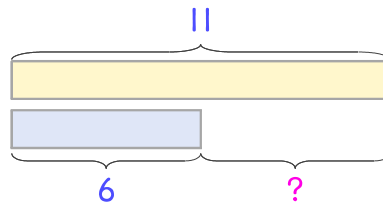


문제를 읽고 알맞은 덧셈식이나 뺄셈식을 세워 답을 구하세요.

두 수의 크기를 비교하여 해결해 보세요.



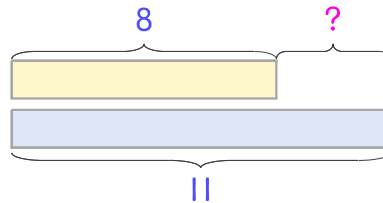
- 7 온유네 집에 친구들이 놀러 왔습니다. 토요일에 11명, 일요일에 6명이 왔습니다. 일요일에는 토요일보다 몇 명 더 적게 왔나요?



식 \_\_\_\_\_

답 \_\_\_\_\_

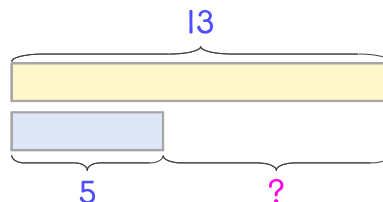
- 8 찬우네 동네에는 개 8마리와 고양이 11마리가 있습니다. 개가 고양이보다 몇 마리 더 적은가요?



식 \_\_\_\_\_

답 \_\_\_\_\_

- 9 하민이는 밤을 어제 13개, 오늘 5개 주었습니다. 어제 주운 밤이 오늘 주운 것보다 몇 개 더 많은가요?



식 \_\_\_\_\_

답 \_\_\_\_\_

