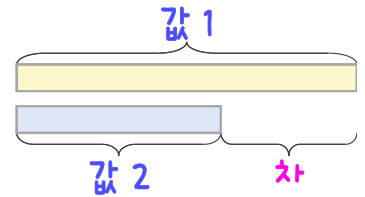
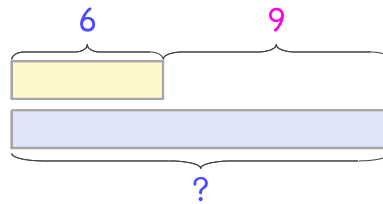


문제를 읽고 알맞은 덧셈식이나 뺄셈식을 세워 답을 구하세요.

두 수의 크기를 비교하여 해결해 보세요.



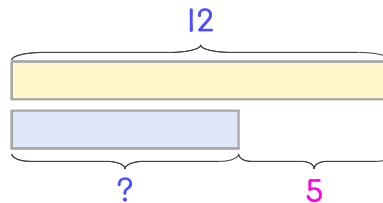
10 밤을 어제는 6개를 먹었고 오늘은 어제보다 9개 더 많이 먹었습니다. 오늘 먹은 밤은 몇 개인가요?



식 _____

답 _____

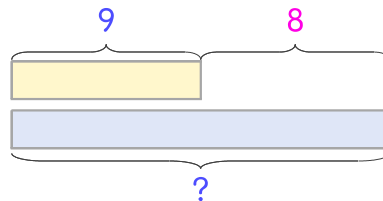
11 멜론은 12개이고 수박은 멜론보다 5개 더 적습니다. 수박은 몇 개인가요?



식 _____

답 _____

12 당근은 9개이고 오이는 당근보다 8개 더 많습니다. 오이는 몇 개인가요?



식 _____

답 _____

