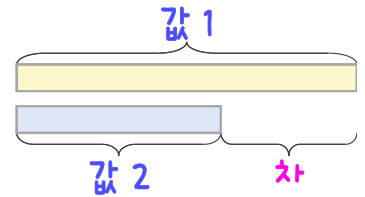
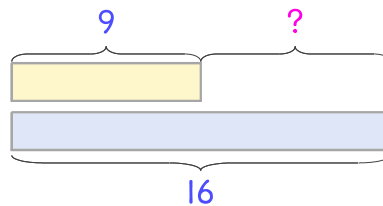


문제를 읽고 알맞은 덧셈식이나 뺄셈식을 세워 답을 구하세요.

두 수의 크기를 비교하여 해결해 보세요.



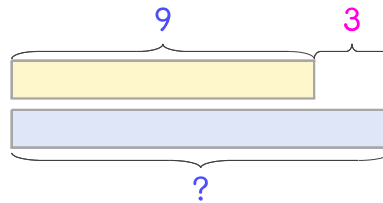
- 13 피자 가게에서 치즈피자 9판과 버섯피자 16판을 만들었습니다. 버섯피자가 치즈피자보다 몇 판 더 많은가요?



식 _____

답 _____

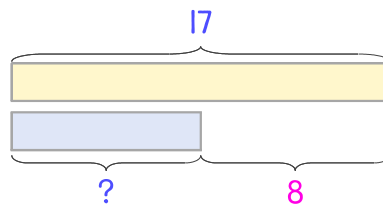
- 14 피자 가게에서 고구마피자 9판을 만들고 감자피자는 고구마피자보다 3판 더 많이 만들었습니다. 감자피자는 몇 판 만들었나요?



식 _____

답 _____

- 15 과일 가게에서 오늘 수박은 17개 팔았고 멜론은 수박보다 8개 더 적게 팔았습니다. 멜론은 몇 개 팔았나요?



식 _____

답 _____

