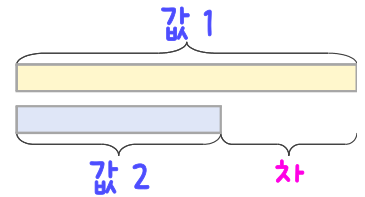
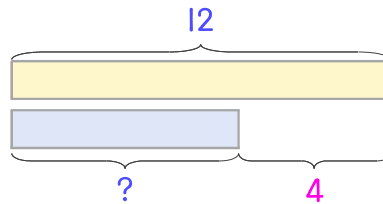


문제를 읽고 알맞은 덧셈식이나 뺄셈식을 세워 답을 구하세요.

두 수의 크기를 비교하여 해결해 보세요.



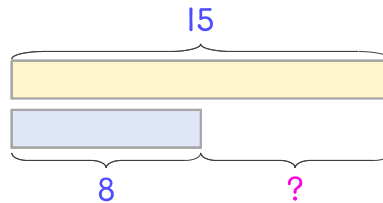
- 16 일주일 동안 헤린이는 아이스크림을 12개 먹었고 동생은 헤린이보다 4개 더 적게 먹었습니다. 동생이 일주일 동안 먹은 아이스크림은 몇 개인가요?



식 _____

답 _____

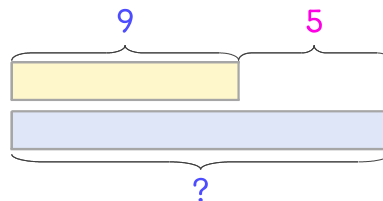
- 17 일주일 동안 헤린이는 책을 15권 읽었고 동생은 8권 읽었습니다. 헤린이는 동생보다 몇 권 더 많이 읽었나요?



식 _____

답 _____

- 18 헤린이는 9살이고 언니는 헤린이보다 5살 더 많습니다. 언니는 몇 살인가요?



식 _____

답 _____

