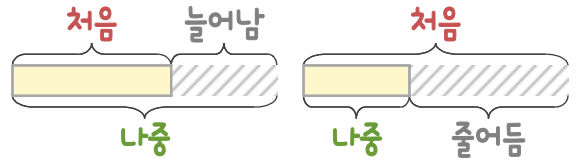
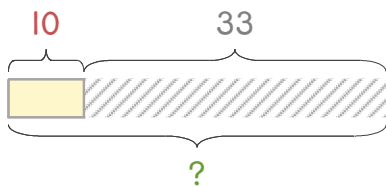


문제를 읽고 알맞은 덧셈식이나 뺄셈식을 세워 답을 구하세요.

처음과 나중을 생각하며 해결해 보세요.

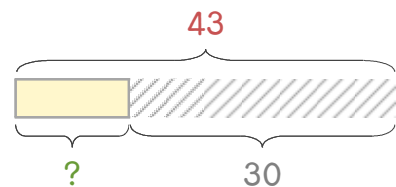


보기 빵집에 단팥빵 10개가 있는데 33개를 더 만들었습니다. 단팥빵은 모두 몇 개가 되었나요?



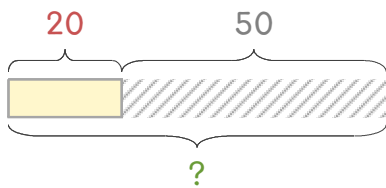
식 $10+33=43$ 답 **43개**

1 빵집에 단팥빵 43개가 있는데 그중에서 30개를 팔았습니다. 남은 단팥빵은 몇 개인가요?



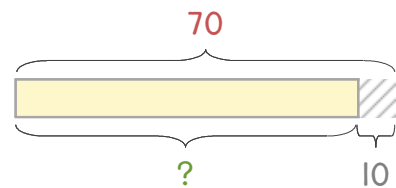
식 _____ 답 _____

2 진아가 색종이 20장을 가지고 있었는데 50장을 더 샀습니다. 색종이는 모두 몇 장이 되었나요?



식 _____ 답 _____

3 진아가 색종이 70장을 가지고 있었는데 10장을 친구에게 주었습니다. 남은 색종이는 몇 장인가요?



식 _____ 답 _____

