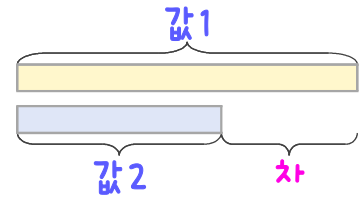
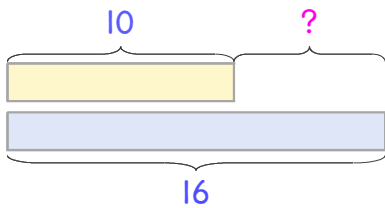


문제를 읽고 알맞은 덧셈식이나 뺄셈식을 세워 답을 구하세요.

두 수의 크기를 비교하여 해결해 보세요.

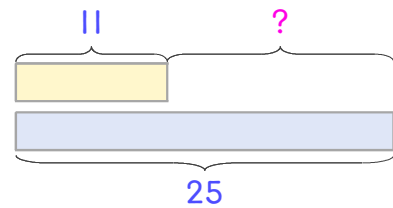


**보기** 교실에 남학생은 10명, 여학생은 16명입니다. 여학생이 몇 명 더 많은가요?



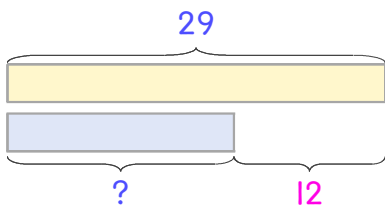
식  $16 - 10 = 6$     답 **6명**

**1** 운동장에 남학생은 11명, 여학생은 25명입니다. 여학생이 몇 명 더 많은가요?



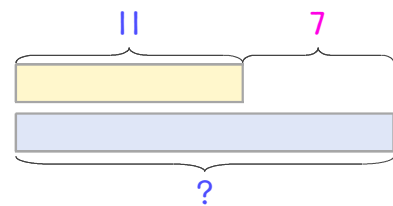
식 \_\_\_\_\_    답 \_\_\_\_\_

**2** 체육관에 남학생은 29명이고 여학생은 남학생보다 12명 더 적습니다. 여학생은 몇 명인가요?



식 \_\_\_\_\_    답 \_\_\_\_\_

**3** 수아네 반에 여학생은 11명이고 남학생은 여학생보다 7명 더 많습니다. 남학생은 몇 명인가요?



식 \_\_\_\_\_    답 \_\_\_\_\_

