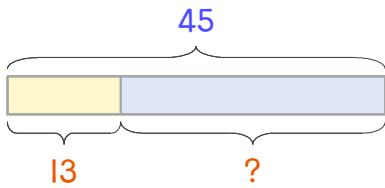


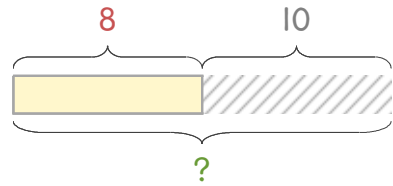
문제를 읽고 알맞은 식을 세워 답을 구하세요.

1 학급문고에 만화책과 동화책이 합해서 45권 있습니다. 그중에서 만화책이 13권이면 동화책은 몇 권인가요?



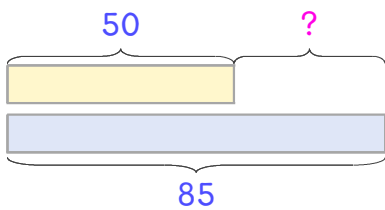
식 _____ 답 _____

2 윤아는 8살입니다. 10년 후에는 몇 살이 되나요?



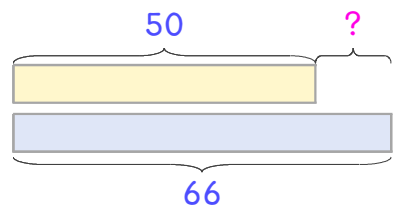
식 _____ 답 _____

3 도서관을 이용한 사람 수는 토요일에 50명, 일요일에 85명입니다. 일요일에 몇 명 더 많이 이용했나요?



식 _____ 답 _____

4 민서는 줄넘기를 50개, 언니는 66개 넘었습니다. 민서가 몇 개 더 적게 넘었나요?



식 _____ 답 _____

